

Вариант 6

1.1	1.2	1.3	1.4	1.5	1.6	1.7	1.8	1.9	1.10	1.11	1.12
А	А	Г	Б	Б	А	В	Б	Г	В	Г	В

2.1	2.2	2.3	2.4	2.5	2.6
$\frac{y-6}{10-y}$	$(1; -2); (1,4; -0,4)$	88	2	180 cm^2	$\frac{h}{\sin \alpha \cos \alpha}$

Варіант 6

3.1. Дана функція — квадратична її графік — парабола, вітки якої напрямлені вниз Абсциса вершини параболу $x_0 = -\frac{-6}{-2} = -3$, ордината вершини $y_0 = 1(-3) = 4$ Точка $(-3, 4)$ — вершина параболу Знайдемо точки перетину параболу з осями координат З віссю y ($x = 0$)

$$-x^2 - 6x - 5 = 0, \quad x^2 + 6x + 5 = 0, \quad x_1 = -5,$$

$$x_2 = -1, \quad \text{з віссю } x \text{ (} y = 0 \text{)} \quad x = -5$$

Графік зображено на рисунку 6 1

1) Область значень функції $(-\infty, 4]$,

2) Функція спадає на проміжку $[-3, +\infty)$

3.2. Нехай початкова швидкість велосипедиста

v км/год Тоді повертався він зі швидкістю $(v + 3)$ км/год, витративши на дорогу із села A в село B $\frac{30}{v}$ год, а з B в A — $\frac{30}{v+3}$ год, що на 30 хв $= \frac{1}{2}$ год менше, ніж

$$\text{час руху з } A \text{ до } B \text{ Маємо } \frac{30}{v} - \frac{30}{v+3} = \frac{1}{2}, \quad 60(v+3-x) = x^2 + 3x,$$

$$x^2 + 3x - 180 = 0,$$

$$x_1 = 12, \quad x_2 = -15 \quad \text{— не задовольняє умову задачі}$$

Відповідь 12 км/год

3.3. Область визначення даної функції — множина розв'язків системи нерівностей

$$\begin{cases} 3-5x-2v^2 > 0, \\ x+1 \geq 0 \end{cases} \text{ Тоді } \begin{cases} 2x^2+5x-3 < 0, \\ x \geq -1, \end{cases} \begin{cases} -3 < x < 0,5, \\ x \geq -1, \end{cases} \begin{cases} -1 \leq x < 0,5 \end{cases}$$

Відповідь $D(v) = [-1, 0,5]$

3.4. $ABCD$ — дана трапеція, $BC \parallel AD$, $AB \perp AD$, $\angle D = 45^\circ$,

$CD = 12\sqrt{2}$ см (рис 6 2) Проведемо висоту CH трапеції

$\triangle HCD$ — прямокутний рівнобедрений, $CH = \frac{CD}{\sqrt{2}} = 12$ см,

$CH = BA$ Оскільки в дану трапецію можна вписати коло, то $CD + AB = BC + AD$, тоді площа трапеції

$$S = \frac{BC+AD}{2} \cdot BA = \frac{BA+CD}{2} \cdot BA = \frac{12+12\sqrt{2}}{2} \cdot 12 = 72(\sqrt{2}+1) \text{ см}^2$$

Відповідь $72(\sqrt{2}+1) \text{ см}^2$

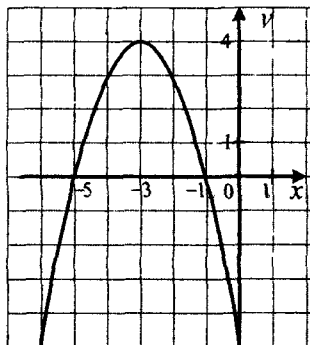


Рис 6 1

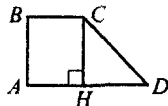


Рис 6 2

$$4.1. (\sqrt{x}-a)(3x^2+x-2) = 0, \quad \begin{cases} 3x^2+x-2=0, \\ x \geq 0, \\ x = a^2, \\ a \geq 0, \end{cases} \quad \begin{cases} x = -1, \\ x = \frac{2}{3}, \\ x \geq 0 \end{cases} \text{ або } \begin{cases} x = a^2, \\ a \geq 0, \end{cases} \quad \begin{cases} x = \frac{2}{3}, \\ x = a^2, \\ a \geq 0 \end{cases}$$

Рівняння має єдиний розв'язок, якщо $\begin{cases} a^2 = \frac{2}{3}, \\ a \geq 0 \end{cases}$, або $a < 0$

Відповідь при $a < 0$ або $a = \sqrt{\frac{2}{3}}$

$$\begin{aligned} 4.2. \sqrt{23-8\sqrt{7}} + \sqrt{23+8\sqrt{7}} &= \sqrt{16-8\sqrt{7}+7} + \sqrt{16+8\sqrt{7}+7} = \\ &= \sqrt{(4-\sqrt{7})^2} + \sqrt{(4+\sqrt{7})^2} = |4-\sqrt{7}| + |4+\sqrt{7}| = 4-\sqrt{7} + 4+\sqrt{7} = 8 \end{aligned}$$

4.3. Нехай $\angle ABC < 45^\circ$ (рис 6.3) Оскільки CM – медіана прямокутного трикутника, проведена до гіпотенузи, то $CM = \frac{1}{2} AB = MB$ Отже, трикутник CMB – рівнобедрений і $\angle MCB = \angle ABC$

У прямокутному трикутнику ACH

$\angle ACH = 90^\circ - \angle CAH = \angle ABC$ Отримуємо

$\angle MCL = 45^\circ - \angle MCB = 45^\circ - \angle ABC$, $\angle LCH = 45^\circ - \angle ACH = 45^\circ - \angle ABC$ Отже,

CL – бісектриса трикутника HCM За теоремою Піфагора $CM^2 = CH^2 + HM^2$,

звідси $10^2 = 6^2 + HM^2$, $HM^2 = 64$, $HM = 8$ (см) Нехай $HL = x$ см, $LM = y$ см

Можна записати $\begin{cases} x + y = 8, \\ \frac{x}{y} = \frac{3}{5}, \end{cases} \begin{cases} x = 3, \\ y = 5 \end{cases}$

Маємо $CL^2 = CH^2 + HL^2$, $CL^2 = 6^2 + 3^2 = 45$, $CL = 3\sqrt{5}$

Відповідь $3\sqrt{5}$ см

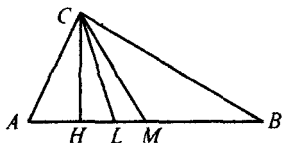


Рис 6.3